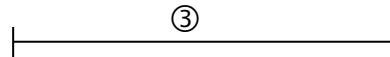
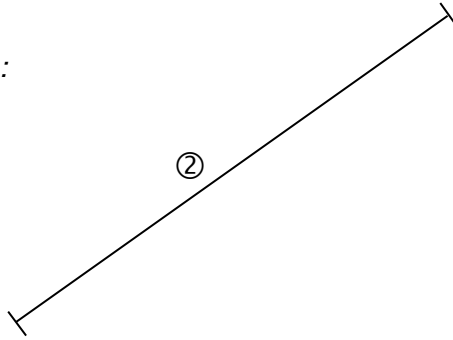
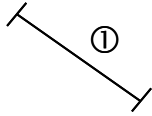


Exercice 17

😊 Mesure les traits suivants :



- le trait ① a pour longueur.....cm
- le trait ② a pour longueur.....cm
- le trait ③ a pour longueur.....cm

Item 93	
0	1