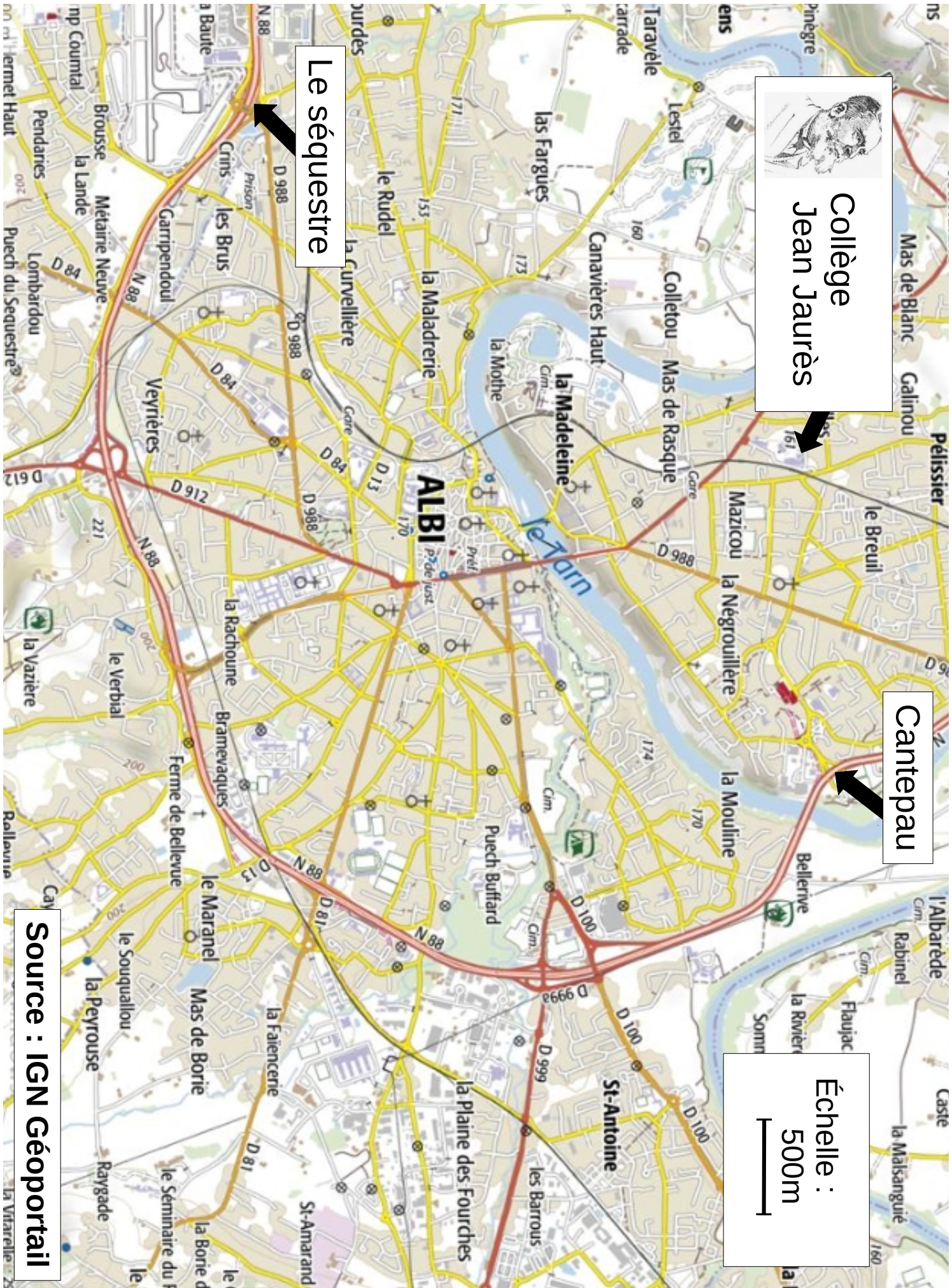



Camille souhaite se rendre du Séquestre à Cantepau en utilisant la rocade d'Albi.

1. Détermine la longueur du trajet que cela représente (entre les deux flèches).
2. Un ami lui fait remarquer que le trajet serait plus court dans l'autre sens (de Cantepau au Séquestre). Pourquoi ?
3. Comment pourrait-on calculer cette différence de longueur ?



Le séquestre

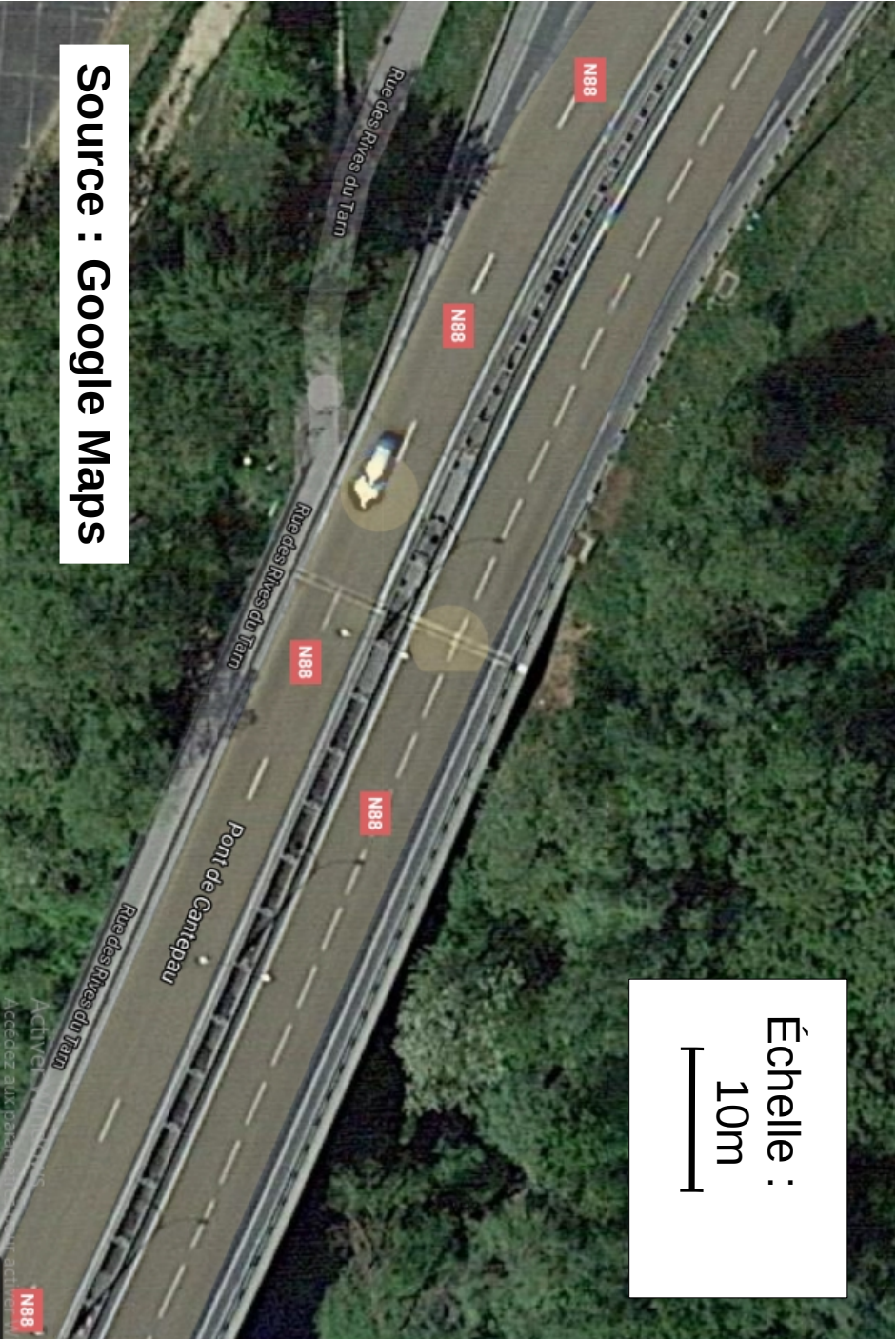


Collège
Jean Jaurès

Cantepau

Échelle :
500m

Source : IGN Géoportail



Source : Google Maps

Réponses à l'aide d'un logiciel :

La rocade fait environ 7,8km, et il y a 41m d'écart entre les deux voies.

Créer un nouveau parcours

perif ex Albi	X
7.797 km	#12513419
Options d'affichage	
perif int Albi	X
7.756 km	#12513409
Options d'affichage	
Fermer l'éditeur	

Créer un nouveau parcours

perif ex Albi	X
7.797 km	#12513419
Options d'affichage	
perif int Albi	X
7.756 km	#12513409
Options d'affichage	
Fermer l'éditeur	

Créer un nouveau parcours

perif ex Albi	X
7.797 km	#12513419
Options d'affichage	
perif int Albi	X
7.756 km	#12513409
Options d'affichage	
Fermer l'éditeur	