

Ne rien écrire ici

TECHNOLOGIE - Durée 30 minutes – 17 points

Vélo à assistance électrique

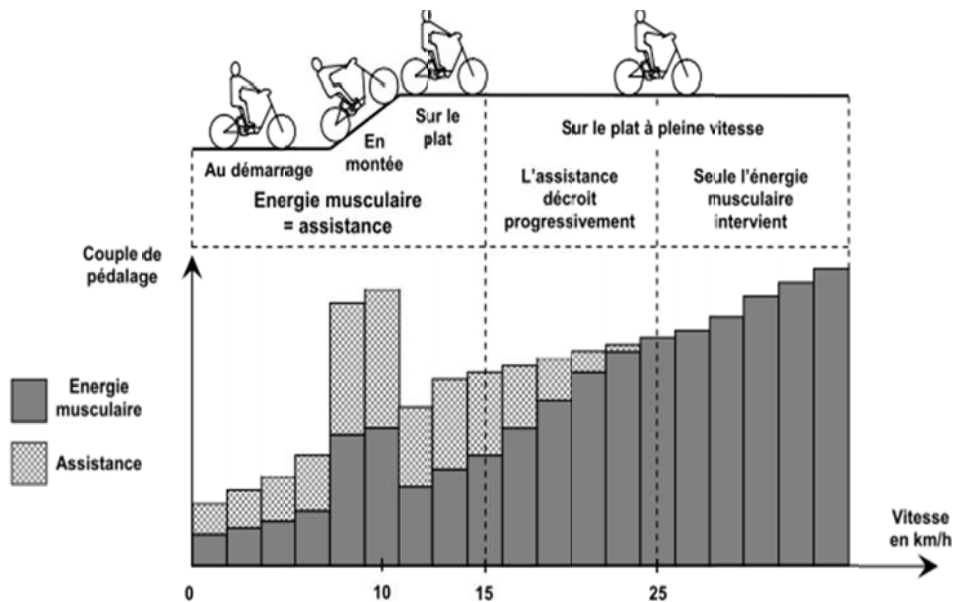
La partie Technologie comporte 4 pages

Les documents réponses n°1 et n°2 sont en pages 11 et 12 et sont à compléter.

Les vélos à assistance électrique (VAE) permettent de diminuer l'effort, également appelé couple de pédalage, que fournit un cycliste lors de son déplacement.

Des capteurs mesurent en permanence la vitesse du vélo et l'effort exercé sur les pédales. En analysant ces données, le calculateur du VAE évalue le niveau de difficulté dans lequel se situe le cycliste et ajuste l'assistance électrique.

Selon une directive européenne, pour qu'un VAE soit considéré comme un vélo et non comme un cyclomoteur, il faut que l'assistance au pédalage cesse, dès que la vitesse du VAE atteint 25 km/h (le vélo peut rouler plus vite mais sans assistance).



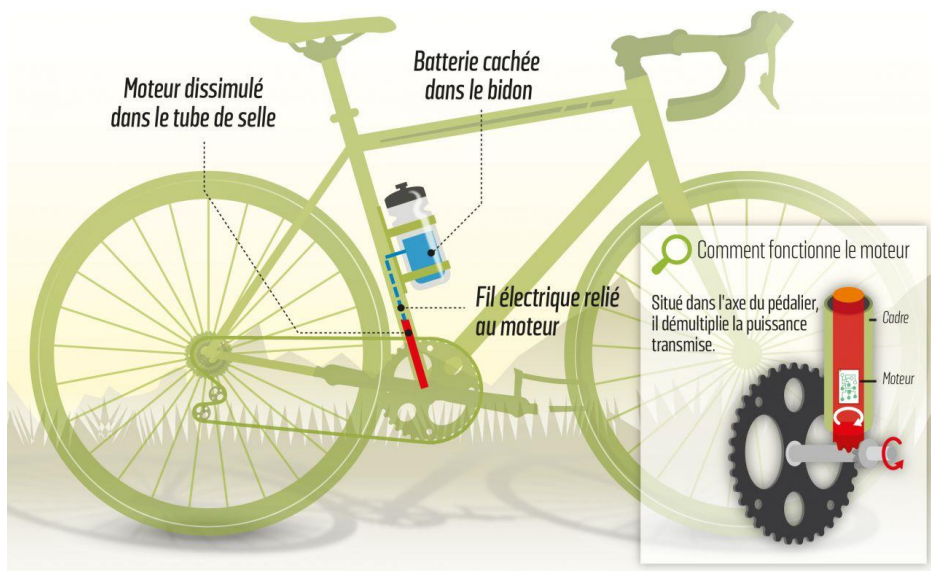
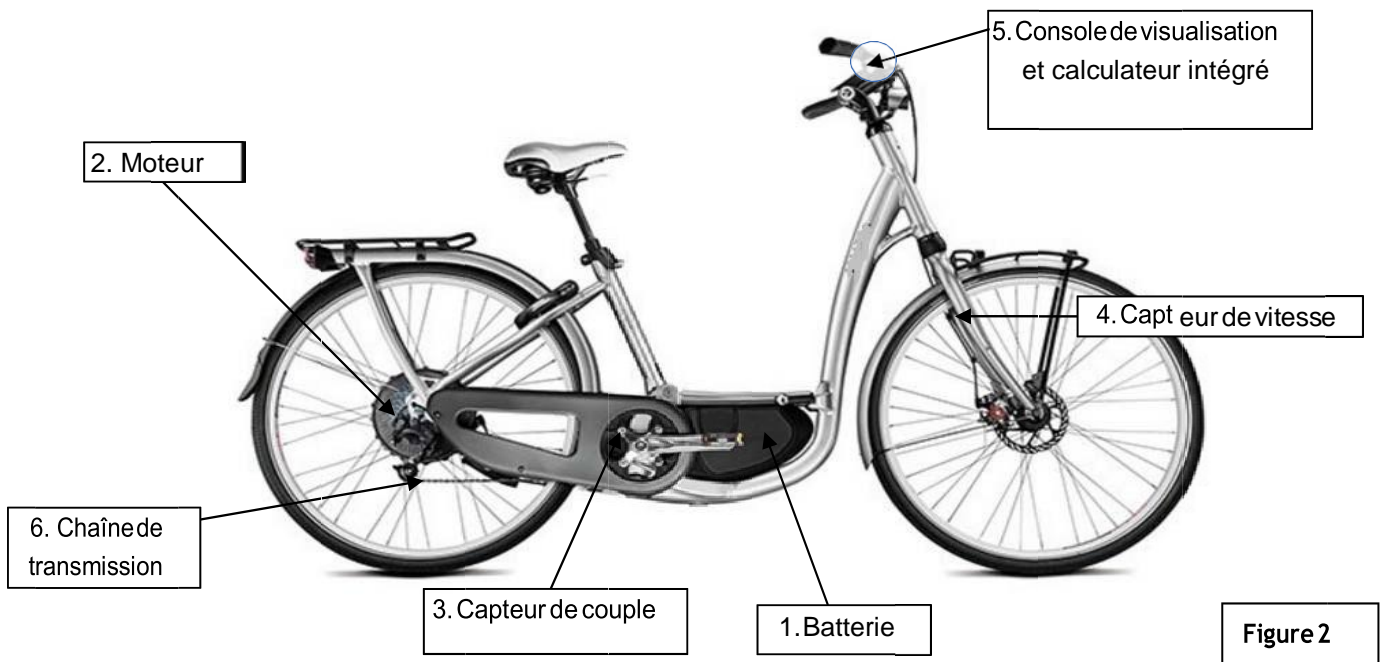
Question 1 :

À partir du graphe figure 1 **indiquer** la situation dans laquelle l'assistance est la plus forte, et la situation où l'assistance est nulle. (répondre en page 11 document réponse)

Ne rien écrire ici

Les principaux composants participant aux chaînes d'information et d'énergie d'un vélo à assistance électrique sont :

1. une **batterie** : c'est la réserve d'énergie,
2. un **moteur** électrique qui entraîne la roue arrière en situation d'assistance,
3. un **capteur de couple** qui détecte le couple de pédalage exercé par le cycliste sur le pédalier,
4. un **capteur de vitesse** qui détecte la vitesse du vélo à assistance électrique,
5. une **console de visualisation** et un **calculateur** intégré,
6. une **chaîne** de transmission.



Version illégale



Figure 3

LP/INFOGRAPHIE.

Ne rien écrire ici

Question 2 : À l'aide de la figure 2, **associer** les composants aux fonctions indiquées en complétant le tableau A (situé sur le document réponse en page 11).

Question 3 : Identifier les composants appartenant à la chaîne d'information ou à la chaîne d'énergie en complétant le tableau B par des croix. (Situé en page 12)

Question 4 : Expliquer simplement en 2 ou 3 lignes pourquoi, dans la figure 3, cette version est illégale ? (page 12)

L'algorithme (fig. 4) situé sur le document réponse (page 12) décrit la logique de démarrage du moteur électrique pour répondre à la demande d'assistance. Le calculateur enregistre la demande et un des programmes traite la mise en route du moteur.

Question 5 : A l'aide de la liste des commandes situé sur le document réponse, compléter les cadres A, B, C et D du programme (fig. 4) correspondant sur le document réponse page 12.

Document réponse

Question 1 -
.....
.....
.....

Question 2 - tableau A :

Fonctions	Composants associés
Renseigner le cycliste	
Transmettre de la puissance à la roue arrière	
Mesurer la vitesse du vélo	
Mesurer le couple de pédalage	
Convertir l'énergie électrique en énergie mécanique	
Stocker l'énergie	

Ne rien écrire ici

Question 3 - tableau B à compléter par des croix :

Composants	Chaîne d'information	Chaîne d'énergie
Batterie		
Moteur électrique		
Capteur de couple		
Capteur de vitesse		
Console de visualisation et calculateur		
Chaîne de transmission		

Question 4 -

.....

.....

Question 5 -

